

Correction du jeudi 14 mai

_ Calcul mental

49	Multiplier par 100	/ 10
2	x 100 =	200
100	x 2 =	200
8	x 100 =	800
23	x 100 =	2300
34	x 100 =	3400
3	x 100 =	300
30	x 100 =	3000
5	x 100 =	500
7	x 100 =	700
100	x 5 =	500

_ Lecture de l'enquête Lafouine

C'est le gardien. Il aurait vu le coupable sur les écrans de surveillance.

_ Mathématiques




Mesures


Fiche 1

Les masses


1 Je colorie l'objet le plus lourd quand c'est possible.



2 J'entoure la bonne réponse.



3 Je complète les plateaux vides en dessinant des pommes.






Mesures


Fiche 2

Les masses

1 Je colorie l'objet le plus léger quand c'est possible.




2 J'entoure la bonne réponse.




possible

impossible




possible

impossible



possible




impossible



possible

impossible

3 Je complète les plateaux en dessinant des oranges pour que la balance soit juste.



_ Orthographe

Il s'écrit avec un « g »	Il s'écrit avec « gu »
Égale ^{ment}	Conjugue ^r
Agréable ^{ment}	Gué ^{rir}
Régulie ^r	La fatigue ^e
Gai ^{ment}	La langue ^e
Glisse ^r	Une guê ^{pe}
Grave ^r	Une guitare
Organise ^r	
Grossi ^r	
Le regard ^e	
Une figure ^e	
Un groupe ^e	
Une goutte ^e	
Une règle ^e	
Un tigre ^e	

Correction du vendredi 15 mai

_ Calcul mental

50	Multiplier par des multiples de 100	/ 10
6	$\times 300 =$	1800
5	$\times 400 =$	2000
3	$\times 200 =$	600
5	$\times 500 =$	2500
4	$\times 700 =$	2800
4	$\times 600 =$	2400
4	$\times 500 =$	2000
2	$\times 300 =$	600
7	$\times 300 =$	2100
7	$\times 400 =$	2800

_ Devinette

Tu participes à une course cycliste. Tu doubles le deuxième. Quelle est alors ta position ?
Si tu doubles le deuxième, c'est toi qui deviens le deuxième.

_ Mathématiques

- 1) Dans l'école du village, il y a 24 CP, 28 CE1 et 26 CE2. Combien y a-t-il d'élèves en tout ?

$$24 + 28 + 26 = 78$$

Il y a 78 élèves en tout.

- 2) Timéo est parti faire des courses avec 90 euros en poche. Il a dépensé 48 euros chez l'épicier et 28 euros chez le poissonnier. Combien lui reste-il ?

$$90 - 48 = 42$$

Une fois que Timéo est sorti de chez l'épicier, il lui reste 42 euros mais il doit encore aller chez le poissonnier.

$$42 - 28 = 14$$

Il lui reste 14 euros après les courses.

- 3) Après la fête de l'école, il reste 15 biscuits au chocolat et 18 biscuits à la vanille. 45 biscuits ont été mangés pendant la fête. Combien de biscuits avaient été préparés pour la fête ?

$$15 + 18 + 45 = 78$$

78 gâteaux avaient été préparés pour la fête.

_ Lecture de l'enquête Lafouine

C'est Annie Morphe. Personne ne pouvait savoir qu'elle avait été poignardée par un couteau de cuisine.

_ Orthographe

Exercice 1 :



une goutte



un tigre



une langue



une guêpe

Exercice 2 :

groupe glisser règle agréable

régulier guitare

Exercice 3 :

- a) également
- b) le regard
- c) gai
- d) grossir

Exercice 4 :

Conjuguer – fatigué – graver – organisé – figure

Exercice 5 :

Une pirogue – un guide – la grippe

Un triangle – un légume – la gueule

Exercice 6 :

- a) Sacha est plus **grand** que toi.
- b) Au 1^{er} mai, on donne du **muguet**.
- c) L'hiver je donne des **grains** de tournesol aux oiseaux.
- d) Les baigneurs s'amuseⁿt dans les grosses **vagues**.